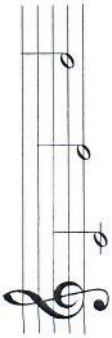









Hudobné pojmy - kvíz č. 1

- Notová osnova má
 - 6 čiar a 5 medzier
 - 5 čiar a 4 medzery
 - 5 čiar a 5 medzier
- Na začiatok notovej osnovy píšeme
 - flautový kľúč
 - klavírny kľúč
 - husľový kľúč
- Nota celá znie
 - na štyri doby
 - na jednu dobu
 - na dve doby
- Ktoré noty sú zapísané do notovej osnovy?
 
 - c¹, d¹, e¹
 - c¹, e¹, g¹
 - d¹, g¹, e¹
- Čo znamená označenie $\frac{2}{4}$?
 - takt dvojštvrtový
 - takt štvorštvrtový
 - takt štvorpolový
- Táto nota  je
 - celá, na štyri doby
 - polová, na dve doby
 - štvrtová, na jednu dobu
- Na prvej čiare leží nota
 - c¹
 - g¹
 - e¹
- V akom poradí sú pomlčky zapísané do notovej osnovy?
 
 - štvrtová, polová, celá
 - celá, polová, štvrtová
 - polová, celá, štvrtová
- Táto nota  je
 - celá, na štyri doby
 - polová, na dve doby
 - štvrtová, na jednu dobu
- Na tretej čiare leží nota
 
 - a¹
 - e¹
 - h¹

Hudobné pojmy - kvíz č. 2

- Namiesto jednej polovej noty sa môžu napísať
 - štyri štvrtové noty
 - dve štvrtové noty
 - dve celé noty
- Ktoré noty sú zapísané do notovej osnovy?
 
 - a¹, d¹, h¹
 - g¹, e¹, h¹
 - a¹, e¹, h¹
- Ktorá pomlčka visí na štvrtej čiare?
 - celá
 - polová
 - štvrtová
- Do jedného štvorštvrtového taktu sa môžu napísať
 - dve celé noty
 - štyri polové noty
 - štyri štvrtové noty
- Nota f¹ leží v notovej osnove
 - na prvej čiare
 - v spodnej medzere
 - pod notovou osnovou
- Ktorá pomlčka leží na tretej čiare?
 
 - polová
 - celá
 - štvrtová
- Ktorá nota leží v notovej osnove na druhej čiare?
 
 - c¹
 - g¹
 - e¹
- Ktorá nota sa nedá zapísať do dvojštvrtového taktu?
 - štvrtová
 - polová
 - celá
- Ktorá nota nemá nožičku?
 - celá
 - polová
 - štvrtová
- Namiesto jednej celej noty sa dajú napísať
 - dve štvrtové
 - dve polové
 - štyri polové