


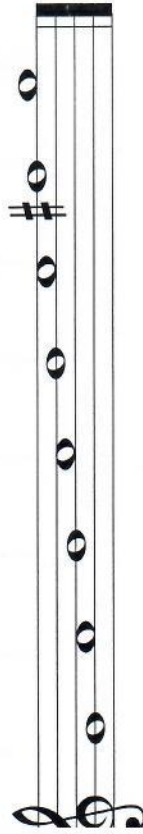
2. Stupnica C dur

Opíš huslový kľúč a doplň v celých notách stupnicu C dur. (nový tón je c¹).



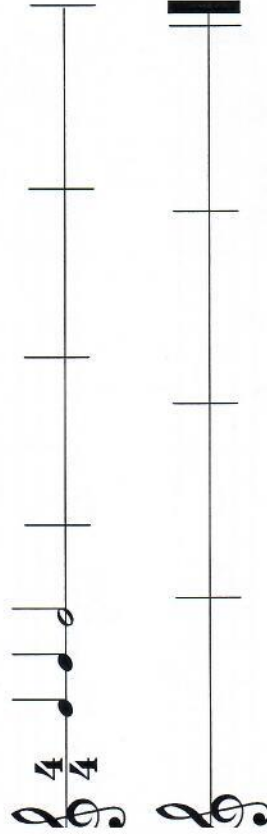
3. Stupnica G dur

Opíš zahráme stupnicu G dur a použijeme tóny G-A-H-C-D-E-F-G, máme, že predposledný tón znie falošne. Preto tón F zvýšime FIS. Zakrúžkuj v stupnici G dur tón fis². Vymenuj tóny stupnice G dur.



4. Takt štvorštvrtňový

Opíš do štvorštvrtňového taktu štvrtové, polové alebo celú notu, aby bol každý takt na štyri doby. Prvý takt je doplnený.



2. Stupnica G dur, poltóny, akord

Durová stupnica má poltóny medzi tretím a _____

stupňom a medzi siedmym a _____ stupňom.

Akord tvoria prvý, _____ a _____ stupeň stupnice.

Doplíš chýbajúce tóny v stupnici G dur. Označ dva poltóny. Zakrúžkuj v tejto stupnici prvý, tretí a piaty tón (stupeň) a akord, ktorý je napísaný za stupnicou.



Tonický kvintakord v G dur tvoria tri tóny: G, _____, _____.

3. Takt trojštvrtňový

Vytľeskej rytmické cvičenie.

